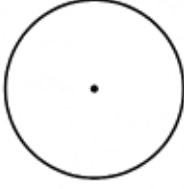
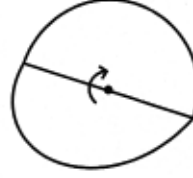


वर्तुळाचे भाग

वर्तुळाच्या निरनिराळ्या भागांना नावे देण्याचा एक सोपा मार्ग आहे.
जाड कागदाची दोन वर्तुळे, डिक आणि पेन घेऊन बसा.

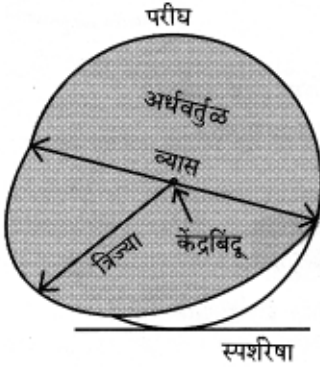
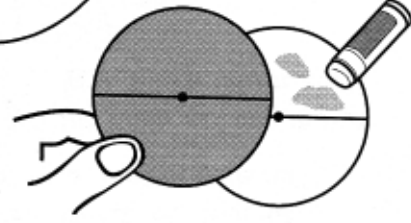


10 सेंटीमीटर
व्यासाची दोन वर्तुळे
कापून घ्या.



त्यांची व्यासावर
घडी करा.

दोन्ही वर्तुळांचे वरचे अर्धे भाग एकमेकांना
चिकटवा. वरच्या बाजूच्या वर्तुळाची खालची
अर्धी बाजू झाकणाप्रमाणे उघडता येईल.



वरच्या
बाजूच्या
वर्तुळावर
लिहा.



वरच्या वर्तुळाची
घडी उघडा आणि
खालच्या
वर्तुळावर लिहा.

कशात अधिक मावेल ?

अशी कल्पना करा, की ही सहा भांडी
पाऊस मोजण्यासाठी बाहेर ठेवली आहेत.
यापैकी कोणत्या भांड्यात सर्वात कमी पाणी गोळा होईल ?
सर्वात प्रथम कोणते भांडे भरेल ?

